

Écris les nombres qui viennent immédiatement après

14 251 _____ 14 959 _____ 34 156 _____ 8 521 _____
 10 003 _____ 8 411 _____ 45 121 _____ 9 000 _____
 9 499 _____ 74 211 _____ 33 433 _____
 7 001 _____ 8 999 _____ 1 111 _____



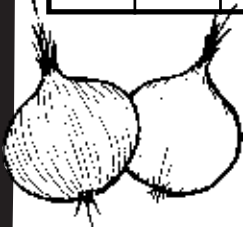
Complète les tableaux suivants :



\rightarrow +	211	28	100
741			
654			
250			

\rightarrow -	12	5
258		
401		
8		

\rightarrow +	244	302	29
291			
404			
309			



Écris en lettres.



24 = _____

 260 = _____

 90 = _____

 2 _____

2 000 = _____

 841 = _____

 771 = _____

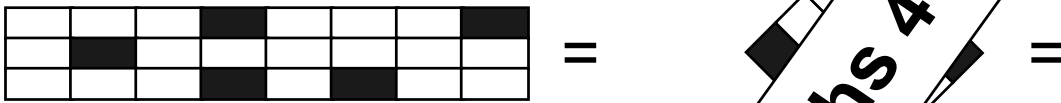
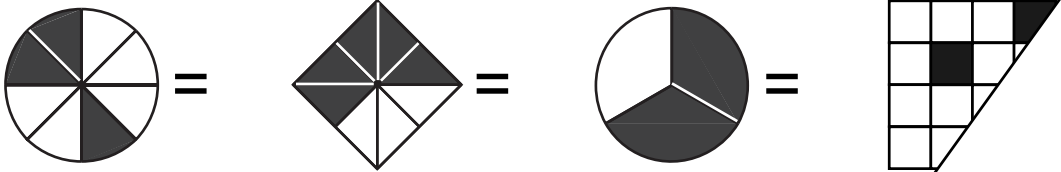
 999 = _____

 389 = _____

 217 = _____

Spécimen - Mater les maths 4

Écris la fraction représentée par la zone noire.



1. Encerle la fraction la plus grande.

$\frac{1}{2}$	$\frac{2}{3}$	$\frac{1}{8}$	$\frac{8}{10}$	$\frac{3}{5}$	$\frac{4}{6}$	$\frac{2}{2}$
$\frac{8}{14}$	$\frac{5}{7}$	$\frac{6}{7}$	$\frac{2}{3}$	$\frac{4}{9}$	$\frac{2}{6}$	$\frac{3}{6}$

2. Encerle la fraction la plus petite.

$\frac{2}{7}$	$\frac{5}{7}$	$\frac{2}{7}$	$\frac{3}{4}$	$\frac{7}{8}$	$\frac{4}{12}$	$\frac{5}{6}$
$\frac{1}{8}$	$\frac{3}{5}$	$\frac{1}{10}$	$\frac{1}{3}$	$\frac{5}{9}$	$\frac{4}{9}$	$\frac{7}{9}$

Spécimen - Mater les maths 4