

Table des matières


Fractions (pages 1 à 32)

Écris les fractions et colorie	1
Numérateur — dénominateur	23
Fraction d'un ensemble	29
Fractions et l'entier	30

Géométrie (pages 33 à 50)

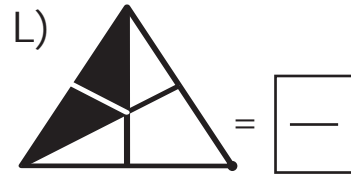
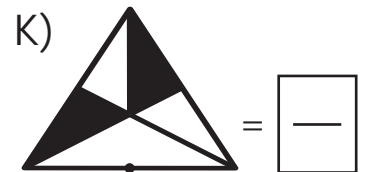
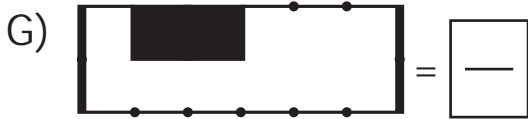
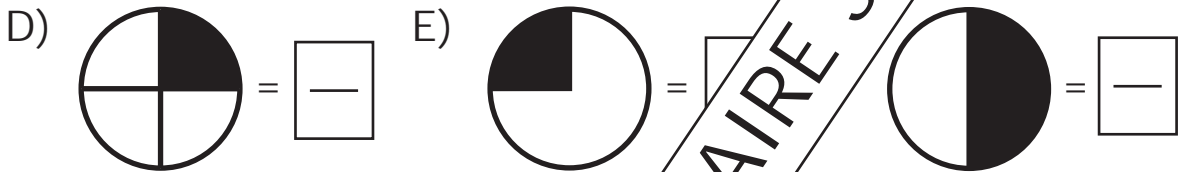
Lignes et segments	33
Lignes parallèles et perpendiculaires	34
Polygones	35
Polygones convexes et non convexes	36
Parallèles - perpendiculaires - angles	37
Trapèzes.....	38
Parallélogrammes	39
Espace : repérage sur une droite	40
repérage dans un plan cartésien	41
repérage dans un plan	42
Motifs et frises	43
Réflexion	44
Solides : cubes et pyramides	45
Développement des solides	47
Les volumes	48

Spécimen - Fractionnaire 3




Fractions

Complète les figures et trouve la fraction de la partie ombrée.

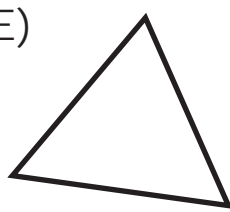
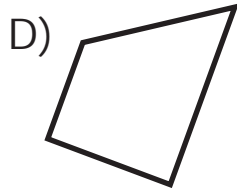
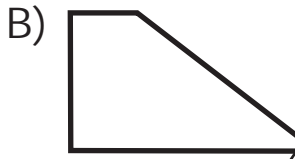
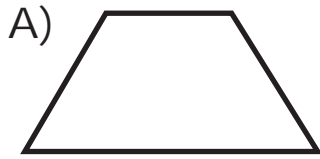


Géométrie

TRAPÈZES



1 Colorie les côtés parallèles des trapèzes.



Les figures _____ et _____ sont pas des trapèzes.

2 Dans l'exercice précédent, compte le nombre d'angles...



Angles	A	B	C	D	E	F
aigus						
obtus						
d'angles						

3 Construis des trapèzes avec ces indices.

