


Complète chacune
des analogies mathématiques.

1




2



3



4

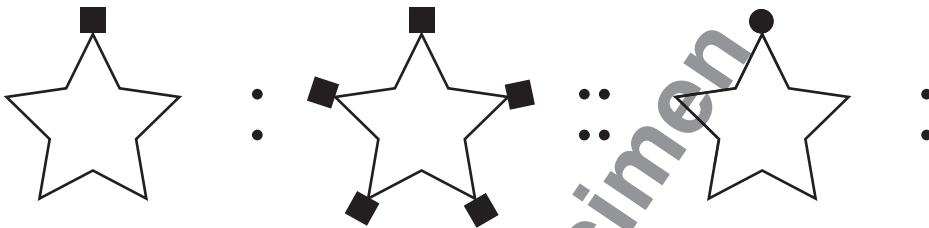


Complète chacune
des analogies mathématiques.

81

grand : petit :: **long** :

82



83

3 : 4 :: 1 :

84



Complète chacune
des analogies mathématiques.

113

OX : **XO** :: **LM** :


114

huit : 8 :: dix :

115




116




Complète chacune
des analogies mathématiques.

213

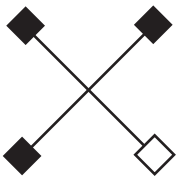


• 12 unités
• carrées ::

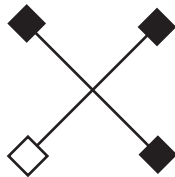


•
•

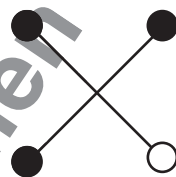
214



•
•



••
••



•
•

215

argent de
poche pour
1 semaine

•

2,50 \$

••

argent de
poche pour
4 semaines

•

216



•
•

$\frac{1}{4}$

••



•
•

probabilité de
tomber sur
la zone noire

probabilité de
tomber sur
la zone noire

