


# Table des matières

Démarche proposée _____	1
Conseils pratiques _____	2
Pré-test n° 1, français _____	3
Pré-test n° 1, mathématique _____	7
Pré-test n° 2, français _____	9
Pré-test n° 2, mathématique _____	17
Pré-test n° 3, français _____	23
Pré-test n° 3, mathématique _____	27
Pré-test n° 4, français _____	31
Pré-test n° 4, mathématique _____	35
Historique de l'élève _____	39
Résultats scolaires par matière ou compétence _____	40
Constat après évaluation _____	41
Fiche de route _____	42
Contrat _____	43
Résultats et stratégies _____	44
Certificat de mérite _____	45
Certificat de félicitations _____	46
Rapport de progrès _____	47
Rapport de progrès en français _____	49
Rapport de progrès en mathématique _____	51



4. Sépare les mots suivants en syllabes.

Exemple: é / co / le



a m i

b a n a n e

m a i s o n

a n a n a s

r o u g e

m a n g e

a v o i n e

a n i m a l



5. Remets les phrases suivantes dans l'ordre.

a) jappe. Le Bijou chien

.....

\_\_\_\_\_

.....

b) orange. et une Mimi une banane mange

.....

\_\_\_\_\_

.....

# 1

## Mathématique

Nom \_\_\_\_\_

3. Compte par 1 jusqu'à 25 en commençant à 10.

10

.....

.....

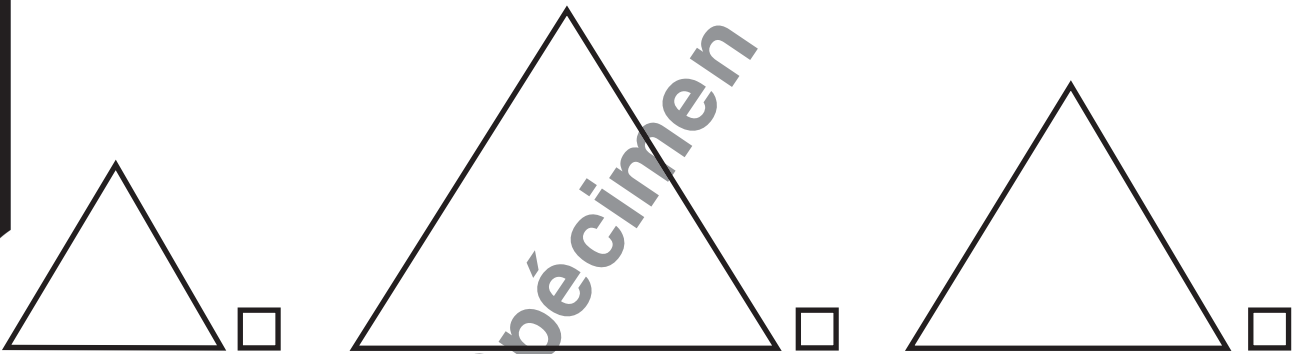
.....

.....

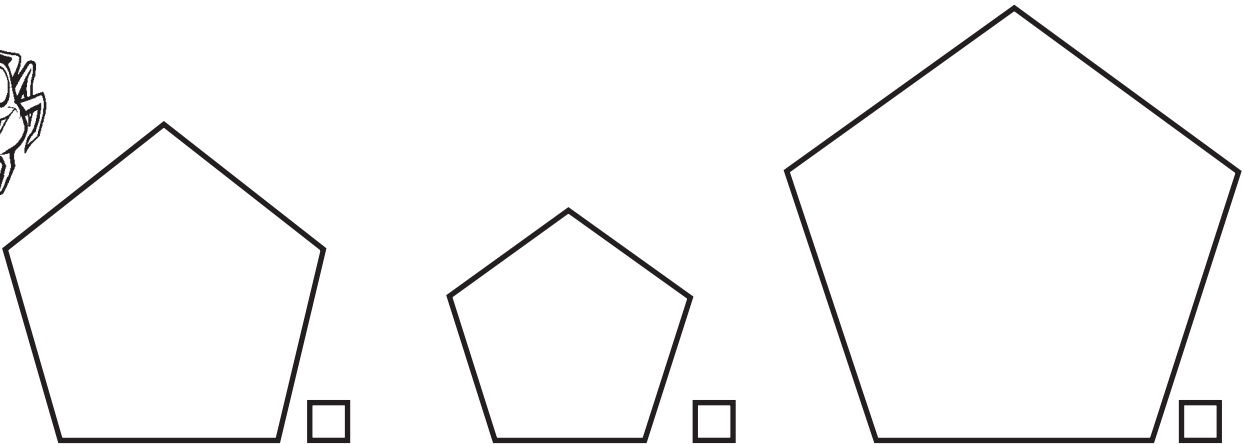
.....

.....

4. Laquelle de ces figures géométriques est la plus grande?  



5. Laquelle de ces figures géométriques est la plus petite?  



### Mes jeux préférés (suite)

d) **Nomme ton jeu préféré et décris-le.**

1) Combien de personnes peuvent jouer à ce jeu ?

\_\_\_\_\_


2) Quel est le but du jeu et quelles sont les stratégies pour y parvenir ?

\_\_\_\_\_  
\_\_\_\_\_  
\_\_\_\_\_

3) Pourquoi aimes-tu ce jeu ?

\_\_\_\_\_  
\_\_\_\_\_  
\_\_\_\_\_

Mon jeu préféré est : \_\_\_\_\_



# 3

## Mathématique

Nom \_\_\_\_\_

### 5. Dis si c'est vraisemblable (V) ou invraisemblable (I).

- a) Il fait froid l'hiver.
- b) Je bâille lorsque je suis fatigué.
- c) Le jour, il fait clair.
- d) Je mange trois repas par jour.
- e) Demain, il fera beau.
- f) La pluie fait pousser les plantes.
- g) Notre planète s'appelle la Terre.
- h) Je resterai toujours jeune.
- i) Mes parents m'aiment.

V

I

V	I

### 6. Résous le problème suivant.

Pour acheter des lunettes de soleil, il te faut 3 billets de 5\$, 2 pièces de 25¢ et 9 pièces de 1¢. Combien d'argent te faut-il pour acheter les lunettes de soleil ?

**DÉMARCHE**

Réponse complète : \_\_\_\_\_

